



**SAADET ÖCALGIRAY**  
**ÖZEL EĞİTİM MESLEKİ EĞİTİM**  
**MERKEZİ (OKULU)**

**ZİHİNSEL**

**EKPSS DENEME SINAVI**

# EKPSS ZİHİNSEL

1 ve 2. soruları aşağıdaki paragrafa göre cevaplayınız.

Haziran ayında okullar tatil olur olmaz, dedemin çiftliğine giderdik. Orada her sene görülecek, öğrenilecek ve eğlenilecek o kadar çok şey olurdu ki... Dedem, bana ve kardeşlerime hem arkadaşlık hem de öğretmenlik ederdi. Zaten civarda dedemi sevmeyen tek bir çocuk bulamazdınız.

1. Metne göre yazar ve kardeşleri dedesinin çiftliğine hangi mevsimde giderlermiş?

- A) İlbaharda                      B) Yazın  
C) Sonbaharda                  D) Kışın

2. Yazarın dedesiyle ilişkisini en iyi ifade eden seçenek aşağıdakilerden hangisidir?

- A) Dedesi ona para verirmiş.  
B) Dedesi ona oyuncak almış.  
C) Dedesi onu yemeğe götürmüştü.  
D) Dedesi ona hem arkadaşlık hem de öğretmenlik yapmış.

3. “Kabak tadı vermek” deyiminin açıklaması aşağıdakilerden hangisidir?

- A) Taşkın davranışlarda bulunmak  
B) Bir işe uğurlu olması dileğiyle başlamak  
C) Dışarıyla ilgisini kesip kimseyle görüşmemek  
D) Bir konuyu sık sık yineleyerek usandırıcı ve bıktırıcı olmak

4. Aşağıdakilerden hangisi anlamlı ve kurallı bir cümledir?

- A) Dün akşam, kedimiz çok hareketliydi.  
B) Kedimiz, dün akşam hareketliydi çok.  
C) Akşam kedimiz, hareketliydi çok dün.  
D) Hareketliydi çok, dün akşam kedimiz.

5. Türkçemizde bulunan 29 harfin hepsine birden ne ad verilir?

- A) Hece                              B) Kelime  
C) Alfabe                            D) Cümle

6. “Bu yaz Bodrum’a gideceğiz.” cümlesindeki özel isim aşağıdakilerden hangisidir?

- A) Bu                                  B) Gideceğiz  
C) Yaz                                D) Bodrum’a

7. “Dr () Levent bugün gelmeyecekmiş.” cümlesinde yay ayrıçla belirtilen yere aşağıdaki noktalama işaretlerinden hangisi konmalıdır?

- A) (.)                      B) (:.)                      C) (,)                      D) (...)

8. Aşağıdaki cümlelerin hangisinde kesme işareti doğru yerde kullanılmıştır?

- A) Çocuk’lar balıkçıya koşup balık aldılar.  
B) Okulumuz’un kütüphanesi günden güne büyüyordu.  
C) Ankara’da hava çok güzeldi.  
D) Ayakkabı’mın topuğu kırıldı.

9. “Tavukların yemlerini ben veririm.” cümlesindeki altı çizili sözcüğün türü nedir?

- A) İsim                      B) Fiil                      C) Zarf                      D) Sıfat

10. “Biz bugün çok neşeliyiz.” cümlesindeki zamir (adıl) aşağıdakilerden hangisidir?

- A) Biz                                  B) Bugün  
C) Çok                                D) Neşeliyiz

# EKPSS ZİHİNSEL

11. Mustafa Kemal Atatürk'ün mezarı, aşağıdaki illerin hangisindedir?

- A) İstanbul B) Konya  
C) Samsun D) Ankara

12. Atatürk tarafından kurulan siyasi parti (fırka) aşağıdakilerden hangisidir?

- A) Serbest Cumhuriyet Fırkası  
B) Terakkiperver Cumhuriyet Fırkası  
C) Cumhuriyet Halk Fırkası  
D) Demokrat Parti

13. Türkiye Büyük Millet Meclisi Urfa iline, Millî Mücadele'de gösterdiği başarıdan dolayı hangi unvanı vermiştir?

- A) Cesur B) Şanlı  
C) Kahraman D) Gazi

14. Kısa adı "TDK" olan kurumun adı, aşağıdakilerden hangisidir?

- A) Türk Tarih Kurumu  
B) Türk Dil Kurumu  
C) Türkiye Atom Enerjisi Kurumu  
D) Türkiye Radyo Televizyon Kurumu

15. Aşağıdakilerden hangisi 29 Ekim 1923 tarihinde gerçekleşmiştir?

- A) Atatürk'ün doğumu  
B) Medeni Kanun'un kabulü  
C) Cumhuriyetin ilan edilmesi  
D) Mustafa Kemal'in ölümü

16. Mustafa Kemal'e "Kemal" adını, aşağıdakilerden hangisi vermiştir?

- A) Annesi B) Babası  
C) Öğretmeni D) Dayısı

17. Kurtuluş Savaşı Döneminde Doğu Anadolu Bölgesi'nde Ermenilerle mücadele eden Doğu Cephesi Komutanı, aşağıdakilerden hangisidir?

- A) Kâzım Karabekir Paşa  
B) Mustafa Kemal Paşa  
C) Cafer Tayyar Paşa  
D) İsmet Paşa

18. Türkiye Cumhuriyeti Devleti'nin millî marşının söz yazarı, aşağıdakilerden hangisidir?

- A) Zeki Üngör  
B) Sadettin Kaynak  
C) Mehmet Akif Ersoy  
D) Mustafa Kemal Atatürk

19. Mustafa Kemal, Bandırma Vapuru ile 19 Mayıs 1919 tarihinde aşağıdaki şehirlerden hangisine gitmiştir?

- A) Sinop B) İzmir  
C) Trabzon D) Samsun

20. Atatürk'ün annesinin ve babasının isimleri, aşağıdakilerin hangisinde doğru olarak birlikte verilmiştir?

|    | ANNESİ        | BABASI          |
|----|---------------|-----------------|
| A) | Makbule       | Ali Rıza Efendi |
| B) | Zübeyde Hanım | Ali Rıza Efendi |
| C) | Zübeyde Hanım | Şerif Bey       |
| D) | Latife Hanım  | Ali Rıza Efendi |

21. Aynı ülkede yaşayan ve aynı devlete vatandaşlık bağı ile bağlı olan kişilere ne denir?

- A) Yönetim B) Vatandaş  
C) İktidar D) Anayasa

## EKPSS ZİHİNSEL

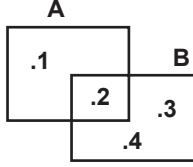
22. İnsan haklarına duyarlı bir vatandaşın aşağıdaki davranışlardan hangisi beklenmez?
- A) Başkalarına yapılan haksızlığı görmezden gelmesi  
B) Hakkı çiğnenen bir insana yardımcı olması  
C) Başkalarının haklarına saygı göstermesi  
D) Haklarını koruması
23. Aşağıdakilerden hangisi, toplumda insanların davranışlarını belirleyen yazılı kurallardandır?
- A) Adetler  
B) Gelenekler  
C) Kanunlar  
D) Görenekler
24. Aşağıdakilerden hangisi seçimle iş başına gelir?
- A) Vali  
B) Muhtar  
C) Kaymakam  
D) Millî Eğitim Müdürü
25. Aşağıdakilerden hangisi sosyal haklarımızdan biridir?
- A) Kamu hizmetlerine girebilmek  
B) Seçimlerde oy kullanmak  
C) Sendikaya üye olabilmek  
D) Eğitim görmek
26. Türkiye'nin yüzölçümü en büyük olan gölü aşağıdakilerden hangisidir?
- A) Van Gölü  
B) Tuz Gölü  
C) Beyşehir Gölü  
D) Eğirdir Gölü
27. Türkiye'nin nüfusu en kalabalık olan şehri aşağıdakilerden hangisidir?
- A) Konya  
B) Adana  
C) İstanbul  
D) Giresun
28. Yerkabuğunda meydana gelen çatlamlar ve kırılmalar nedeniyle oluşan yeryüzü sarsıntısına ne denir?
- A) Erozyon  
B) Heyalan  
C) Sel  
D) Deprem
29. Türkiye'nin tahıl ambarı olarak isimlendirilen bölgesi aşağıdakilerden hangisidir?
- A) Ege Bölgesi  
B) Akdeniz Bölgesi  
C) İç Anadolu Bölgesi  
D) Doğu Anadolu Bölgesi
30. Aşağıdaki illerimizin hangisinde taşkömürü çıkarılır?
- A) Bursa  
B) Zonguldak  
C) Hakkari  
D) Tekirdağ
31. 28 kişilik bir sınıfın  $\frac{1}{4}$ 'i kız öğrencidir. Bu sınıfta kaç erkek öğrenci vardır?
- A) 7  
B) 12  
C) 14  
D) 21
32. Bir klasörün içinde 120 tane poşet dosya vardır. Her bir poşet dosyanın içinde 12 tane A4 kâğıdı olduğuna göre, bu klasörün içinde kaç tane A4 kâğıdı vardır?
- A) 134  
B) 1200  
C) 1440  
D) 1560
33.  $\sqrt{25} - \sqrt{4}$  işleminin sonucu kaçtır?
- A) 1  
B) 3  
C)  $\sqrt{21}$   
D)  $\sqrt{29}$

## EKPSS ZİHİNSEL

34. 4, 5 ve 3 rakamları ile yazılabilecek en küçük üç basamaklı doğal sayı aşağıdakilerden hangisidir?

- A) 354 B) 435 C) 453 D) 345

35.



Yukarıdaki şekle göre  $B \setminus A$  kümesi aşağıdakilerden hangisidir?

- A) {1} B) {2} C) {3, 4} D) {2, 3, 4}

36. 30 sayısının yarısının 2 fazlası kaçtır?

- A) 13 B) 15 C) 17 D) 28

37. Aynı yerde çalışan üç arkadaşın Ayşe 50, Canan 40, Serap 30 yaşındadır. Bu üç arkadaşın yaş ortalaması kaçtır?

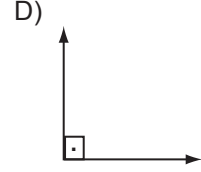
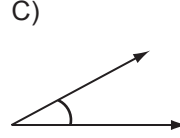
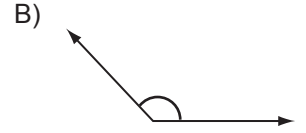
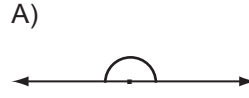
- A) 35 B) 40 C) 45 D) 50

38. Yanda verilen saat kaçı göstermektedir?



- A) 7.55 B) 8.55 C) 10.40 D) 11.40

39. Aşağıdaki açılardan hangisi dar açıdır?



40. Kare şeklindeki bir fayansın çevresinin uzunluğu 40 santimetredir. Bu fayansın alanı kaç santimetrekaredir?

- A) 100 B) 160 C) 200 D) 400

41. 15 yıllık Devlet memurunun yıllık izin süresi kaç gündür?

- A) 2 B) 8 C) 30 D) 70

42. Bilgisayardan görüntüyü izlemek için kullanılan donanım birimlerine ne ad verilir?

- A) Mouse (fare)  
B) Monitör (ekran)  
C) CD-Rom  
D) Klavye

43. Aşağıdakilerden hangisi memurluğu sona erdiren bir durumdur?

- A) Ölüm  
B) Memurun sıkılması  
C) Az para kazanması  
D) Çok iyi sicil notu alması

## EKPSS ZİHİNSEL

44. Aşağıdakilerden hangisi Türkiye Cumhuriyeti'nde Devlet memurluğuna alınacak kişilerde aranan genel şartlardan biridir?

- A) Türk vatandaşı olmak
- B) Memur olmayı çok istemek
- C) Türkiye Cumhuriyetini çok sevmek
- D) Daha önceden dolandırıcılıktan dolayı hapis cezası almış olmak

45. Aşağıdakilerden hangisi Devlet memurlarının görev ve sorumluluklarından biridir?

- A) Herkesin söylediğini yapmakla yükümlü olmak
- B) Beğendiği işi yapmakla yükümlü olmak
- C) Devlete ait araç-gereçleri özel işlerinde kullanmakla yükümlü olmak
- D) Mevzuatta belirtilen görevlerle ilgili amirler tarafından verilen görevleri yerine getirmekle yükümlü olmak

46. Aşağıdakilerden hangisi işe hazırlık aşamasında yer almaz?

- A) Yapacağı işe uygun araç-gereçleri hazırlama
- B) İş öncesi güvenlik tedbirlerini alma
- C) İşe uygun giyinme
- D) Plansız iş yapma

47. Bir Devlet memurunun çalıştığı yeri değiştirmek için yaptığı yer değişikliği işlemine ne ad verilir?

- A) İzin kullanma
- B) Tayin
- C) Sevk
- D) Emeklilik

48. Aşağıdakilerden hangisi halkla ilişkilerin temel ilkelerinden biridir?

- A) Doğru bilgi vermek
- B) Sorumsuz davranmak
- C) İletişimden kaçınmak
- D) İnatçılık

49. Aşağıdakilerden hangisi randıman, iş, sonuç, semere, hasıla ve verim şeklinde ifade edilen verimliliğin artışı engelleyen nedenlerden birisi değildir?

- A) Tembellik
- B) Kötü arkadaş
- C) Eğitimsizlik
- D) Bilgi

50. Aşağıdakilerden hangisi işin hayatımızdaki önemini en belirgin şekilde ifade eder?

- A) Hobi olarak iş gereklidir.
- B) Bireyin eğlenmesi için iş gereklidir.
- C) Geçimini sağlamak için iş gereklidir.
- D) Toplumda tüketici bir birey olarak katılmak için iş gereklidir.

**TEST BİTTİ.  
CEVAPLARINIZI KONTROL EDİNİZ.**

## CEVAP ANAHTARI

1. B
2. D
3. D
4. A
5. C
6. D
7. A
8. C
9. B
10. A
11. D
12. C
13. B
14. B
15. C
16. C
17. A
18. C
19. D
20. B
21. B
22. A
23. C
24. B
25. D

26. A
27. C
28. D
29. C
30. B
31. D
32. C
33. B
34. D
35. C
36. C
37. B
38. A
39. C
40. A
41. C
42. B
43. A
44. A
45. D
46. D
47. B
48. A
49. D
50. C