



2012-ÖZÜRLÜ MEMUR SEÇME SINAVI (ÖMSS)
ORTAÖĞRETİM
ZİHİNSEL
29 NİSAN 2012 PAZAR

T.C. KİMLİK NUMARASI :

ADI :

SOYADI :

Soru kitapçık numarasının cevap kâğıdına yazılmamasının veya yanlış yazılmasının sorumluluğu adaya aittir.

SORU KİTAPÇIK
NUMARASI :

**TEMEL SORU
KİTAPÇIĞI**

Bu numarayı cevap kâğıdınızdaki ilgili alana yazmayı unutmayınız.

DİKKAT! SINAV BAŞLAMADAN ÖNCE AŞAĞIDAKİ UYARILARI MUTLAKA OKUYUNUZ.

1. T.C. Kimlik Numaranızı, Adınızı, Soyadınızı Soru Kitapçığı üzerindeki ilgili alanlara yazınız.
2. Soru Kitapçık Numaranız yukarıda verilmiştir. Bu numarayı cevap kâğıdınızdaki ilgili alana yazınız ve aşağıdaki ilgili alanı imzalayınız. Salon görevlisinin de hem soru kitapçığındaki hem de cevap kâğıdınızdaki ilgili alanı kontrol etmesini sağlayınız.
3. Bu sayfanın arkasında yer alan açıklamayı dikkatle okuyunuz.

Adayın imzası:

Soru kitapçık numarasını doğru yazdım.

Salon görevlisinin imzası:

Adayın soru kitapçık numarasını cevap kâğıdına doğru yazdığını onaylıyorum.

AÇIKLAMA

1. Bu kitapçıkta **Genel Yetenek Testi** ve **Genel Kültür Testi** bulunmaktadır.
2. Bu kitapçıkta iki test toplam 60 sorudan oluşmaktadır.
3. Bu kitapçıkta testlerde yer alan her sorunun sadece bir doğru cevabı vardır. Bir soru için birden çok cevap yeri işaretlenmişse o soru yanlış cevaplanmış sayılacaktır.
4. İşaretlediğiniz bir cevabı değiştirmek istediğinizde, silme işlemini çok iyi yapmanız gerektiğini unutmayınız.
5. Bu testler puanlanırken doğru cevaplarınızın sayısından yanlış cevaplarınızın sayısının dörtte biri düşülecek ve kalan sayı ham puanınız olacaktır. Bu nedenle, hakkında hiçbir fikriniz olmayan soruları boş bırakınız. Ancak, soruda verilen seçeneklerden birkaçını eleyebiliyorsanız kalanlar arasında doğru cevabı kestirmeye çalışmanız yararınıza olabilir.
6. Cevaplamaya istediğiniz sorudan başlayabilirsiniz. Bir soru ile ilgili cevabınızı, cevap kâğıdında o soru için ayrılmış olan yere işaretlemeyi unutmayınız.
7. Sınavda uyulacak diğer kurallar bu kitapçığın arka kapağında belirtilmiştir.

Bu test 30 sorudan oluşmaktadır.

1. Aşağıdakilerden hangisinde, verilen heceler yer değiştirirse anlamlı bir sözcük oluşur?

- A) pi-set B) sa-ma
C) kur-sak D) ya-bel
E) sin-kat

2. Hastalanmamak için ----.

Bu cümlelerin sonuna aşağıdakilerden hangisi getirilemez?

- A) iyi beslenmeliyiz
B) soğuktan korunmalıyız
C) temizliğimize özen göstermeliyiz
D) fırsatları değerlendirmeliyiz
E) sağlığınıza dikkat etmeliyiz

3. Aşağıdakilerin hangisinde, zıt (karşıt) anlamlı sözcükler aynı cümle içinde kullanılmıştır?

- A) Bu uzun yolculukta kısa molalar verdik.
B) Kara bulutlar gökyüzünü kapladı.
C) Zayıf olan çocuk çok sevimliydi.
D) Akşam olunca erkenden uykuya dalmıştı.
E) Çalışkan öğrenci kendini herkese sevdirmişti.

4. Hakan; uzun boylu, siyah saçlı, mavi gözlü, genç biridir.

Mehmet; siyah saçlı, kısa boylu, ela gözlü, orta yaşlı biridir.

Hakan ve Mehmet'in benzer yönü aşağıdakilerden hangisidir?

- A) Boyları B) Saç renkleri
C) Göz renkleri D) Yaşları
E) Meslekleri

5. "Yarın annem ve babam İzmir'e gidecekler."

Bu cümlede aşağıdaki sorulardan hangisinin cevabı vardır?

- A) Nasıl? B) Neden?
C) Neyle? D) Ne?
E) Nereye?

6.

1. eve
2. okuldan
3. dönerken
4. uğradı
5. markete

Yukarıdaki sözcüklerle kurallı bir cümle oluşturulduğunda kaç numaralı sözcük cümlelerin sonuna gelir?

- A) 1. B) 2. C) 3. D) 4. E) 5.

7. Dün sabah kardeşim gaziantepe gitti.
1 2 3 4 5

Bu cümledeki numaralanmış sözcüklerden hangisinin yazımı yanlıştır?

- A) 1 B) 2 C) 3 D) 4 E) 5

8. **Aşağıdaki cümlelerden hangisinin sonuna soru işareti (?) getirilemez?**

- A) Dedem her sabah yürüyüş yapar
B) Dün akşam erken mi uyudun
C) Bu yaz tatilini nerede geçireceksin
D) Amcam yarın kiminle gelecek
E) Neden söylemedin bilgisayarın bozulduğunu

9. Kış günlerini yaşıyoruz. Günler kısa, hava soğuk. Boş zamanlarımızın çoğunu evde geçiriyoruz. Kışın insan evde ne yapar ki diye sormayın. Neler yapmaz ki? Örneğin pencereden bakarak ----.

Bu parçanın sonuna, aşağıdakilerden hangisi getirilemez?

- A) bir kar tanesinin şeklini inceleyebilir
B) kardan adam yapan çocukları izleyebilir
C) kuşların nasıl yiyecek bulduklarını izleyebilir
D) böceklerin kar altındaki yaşamını düşünebilir
E) çiçek açmış ağaçların güzelliğini görebilir

10. Çay, bir bitkidir. Bu bitkinin yaprakları kurutulup işlenir. Bu yapraklarla çay demlenir.

Bu parçada aşağıdaki sorulardan hangisinin cevabı vardır?

- A) Çay hangi renktedir?
B) Çay nedir?
C) Bitkiler nasıl yetiştirilir?
D) Bitkiler nerede kurutulur?
E) Bitkiler hangi özelliklerine göre adlandırılır?

11. Güneş, uzakta alçak tepelerin ardına inmekteydi. Otlaktan dönen sürü yavaş yavaş ilerliyordu. Çoban ara sıra koca sopasını havaya kaldırıyordu. Böylece sürüye yön veriyordu.

Bu parçada anlatılanlar günün hangi zamanında geçmektedir?

- A) Geceleyin B) Öğleden önce
C) Öğleyin D) Akşamüzeri
E) Sabahleyin

12. Bulutlar, milyonlarca su damlacığından meydana gelir. Bu su damlacıkları soğuyarak buz parçacıklarına dönüşür. Bu parçacıklar da birleşerek kar taneleri hâline gelir. Oluşan kar taneleri de havada duramayacak kadar ağırlaşır. Bu nedenle de yeryüzüne düşmeye başlar.

Bu parçadan, kar taneleriyle ilgili olarak aşağıdakilerin hangisine ulaşılabılır?

- A) Nasıl oluştuğuna
B) Yere inerken sıcak havayla karşılaştığında eridiğine
C) Yere düşenlerin ne zaman buharlaştığına
D) Her birinin bir yıldıza benzediğine
E) Birbiriyle aynı olanları bulmanın olanaksızlığına

13. Bugün gökyüzünü incelemeye karar verdik. Gece olunca başımızı kaldırıp yukarıya baktık. Hava kapalı değildi, yağmur da yoktu. Güneyde birçok yıldız gördük. Bunlar gökyüzünün en parlak yıldızlarıydı.

Bu parçada yıldızlarla ilgili olarak aşağıdakilerden hangisine değinilmemiştir?

- A) İzlendiği zamana
- B) Kolayca görüldüğüne
- C) Buldukları yöne
- D) Işıklarının nasıl olduğuna
- E) Verilen adlara

14. - 15. soruları aşağıdaki parçaya göre cevaplayınız.

Adım Mert. Bizim evimizin kocaman bir bahçesi var. Bu bahçede beş tane ağaç bulunuyor: kayısı, erik, elma, dut, kiraz. Kayısı ağacı, dedemin söylediğine göre kırk iki yaşındaymış. Dedem onu gençliğinde dikmiş. Erik ağacı daha yeni dikildi. Elma ağacıyla dut ağacı da bu yıl meyve vermeye başladı. Ben en çok kayısı ağacını seviyorum. Çünkü dedem hep onunla ilgili anılarını anlatıyor.

14. Mert'in, ağaçlardan birini diğerlerinden fazla sevmesinin nedeni nedir?

- A) En verimli ağaç olması
- B) Büyük bir ağaç olması
- C) Dedesinin ondan sık sık söz etmesi
- D) Meyve vermeye yeni başlaması
- E) Meyvesinin tatlı olması

15. Mertlerin bahçesinde aşağıdaki ağaçlardan hangisi yoktur?

- A) Elma
- B) Şeftali
- C) Dut
- D) Erik
- E) Kiraz

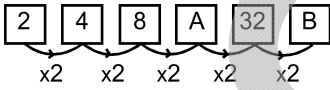
16.

$$\left(\frac{3}{4} + \frac{1}{4} \right) - \left(\frac{7}{3} - \frac{1}{3} \right) = \dots \div \dots = ?$$

Yukarıdaki işlemde ? yerine hangi sayı gelmelidir?

- A) $\frac{1}{2}$ B) $\frac{1}{3}$ C) $\frac{2}{3}$
 D) $\frac{1}{4}$ E) $\frac{3}{4}$

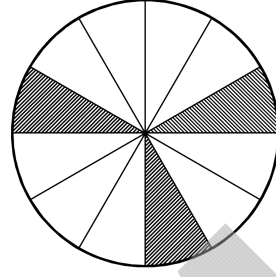
17.



Yukarıda verilen kurala göre, A + B toplamı kaçtır?

- A) 76 B) 78 C) 80 D) 82 E) 84


18. Aşağıdaki şekil eş dilimlere bölünmüştür.



Buna göre, taralı kısmı gösteren kesir aşağıdakilerden hangisidir?

- A) $\frac{1}{2}$ B) $\frac{1}{3}$ C) $\frac{1}{4}$
 D) $\frac{3}{4}$ E) $\frac{2}{5}$

19.



Şekilde verilen yüzlük tabloda, taralı olarak gösterilen ondalık kesir aşağıdakilerden hangisidir?

- A) 0,16 B) 0,08 C) 1,6 D) 0,8 E) 0,016

20. Elif'in 120 TL parası vardır. Bu paranın 25 TL'si ile bir kazak ve 40 TL'si ile bir etek almıştır.

Buna göre, Elif'in kaç TL parası kalmıştır?

- A) 40 B) 45 C) 50 D) 55 E) 60

21. Bir pastacı her gün 19 kg un kullanmaktadır.

Bu pastacı 45 günde toplam kaç kg un kullanır?

- A) 750 B) 775 C) 800 D) 825 E) 855

22. Ali, bir günde 56 tane gömlek satmıştır. Bu gömleklerin dörtte biri beyaz renklidir.

Buna göre, Ali kaç tane beyaz gömlek satmıştır?

- A) 8 B) 14 C) 28 D) 36 E) 52

23.

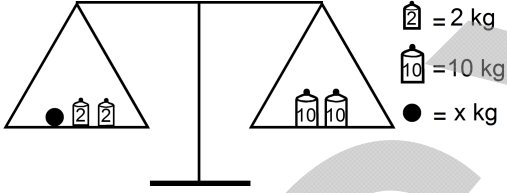
$$A = \{1, 2, 3, 4, 5\}$$

$$B = \{2, 4, 6, 8, 10, 12\}$$

A ve B kümelerinin her ikisinde de bulunan elemanlar hangileridir?

- A) 1 ve 3 B) 1 ve 4 C) 2 ve 4
D) 5 ve 10 E) 6 ve 12

24.



Şekildeki eşit kollu terazi dengede olduğuna göre, x kaçtır?

- A) 8 B) 12 C) 16 D) 22 E) 28

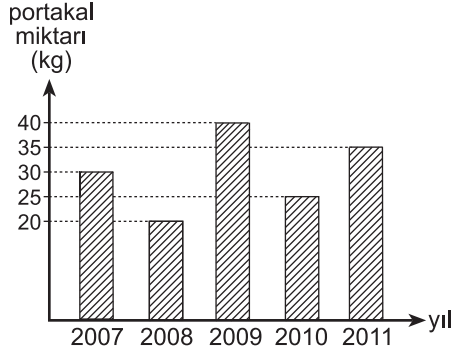
25. Aşağıdaki tabloda, beş kişi ve boyları verilmiştir.

Kişiler	Boyu (cm)
Ayşe	170
Burcu	180
Canan	155
Deniz	180
Ercan	165

Bu beş kişinin boy ortalaması kaç cm'dir?

- A) 155 B) 160 C) 165 D) 170 E) 175

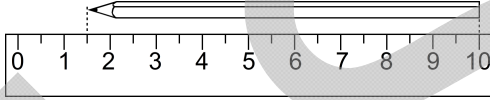
26. Aşağıdaki grafikte, bir portakal ağacının 2007-2011 yılları arasında verdiği portakal miktarları gösterilmiştir.



Buna göre, 2011 yılındaki portakal miktarı, 2008 yılındaki portakal miktarından kaç kg fazladır?

- A) 10 B) 15 C) 20 D) 25 E) 30

27.

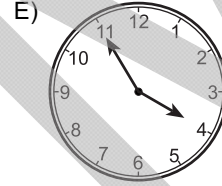
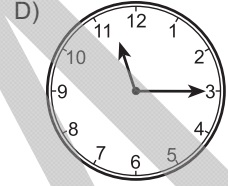
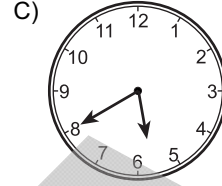
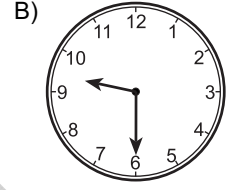
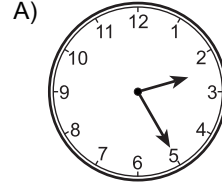


Şekildeki kalem 10 santimetrelik bir cetvel ile ölçülüyor.

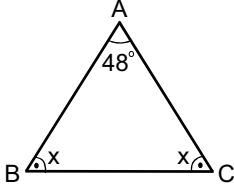
Buna göre, kalemin boyu kaç santimetredir?

- A) 1,5 B) 8,5 C) 9 D) 9,5 E) 10

28. Aşağıdaki saatlerden hangisi 14:25'i göstermektedir?



29.



ABC bir üçgen

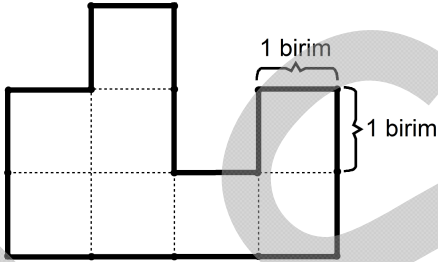
$$m(\widehat{BAC}) = 48^\circ$$

$$m(\widehat{ABC}) = m(\widehat{ACB}) = x$$

Yukarıdaki verilere göre, x kaç derecedir?

- A) 46 B) 50 C) 58 D) 62 E) 66

30. Aşağıdaki şekil eş birim karelere oluşmaktadır.



Buna göre, bu şeklin çevresi kaç birimdir?

- A) 10 B) 12 C) 14 D) 16 E) 18

Bu test 30 sorudan oluşmaktadır.

1. Türk kelimesini kendi adında kullanan ilk devlet aşağıdakilerden hangisidir?

- A) Avar B) Uygur C) Hun
D) Karahanlı E) Göktürk

2. Aşağıdakilerden hangisi, Türk kültürünün gelenekselleşmiş hikâyelerinden biridir?

- A) Dede Korkut B) Bremen Mızıkacıları
C) Noel Baba D) Kırmızı Başlıklı Kız
E) Hansel ile Gratel

3. Osmanlı Devleti'nin son başkenti aşağıdaki şehirlerden hangisidir?

- A) Trabzon B) İzmir C) İstanbul
D) Sivas E) Konya

4. Türkiye Büyük Millet Meclisi hangi şehirde açılmıştır?

- A) İstanbul B) Ankara C) İzmir
D) Eskişehir E) Sivas

5. Türkiye Cumhuriyeti'nin millî marşı aşağıdakilerden hangisidir?

- A) Gençlik Marşı B) Cumhuriyet Marşı
C) Vatan Marşı D) İstiklal Marşı
E) İzmir Marşı

6. Atatürk, tarımı geliştirmek için aşağıdakilerden hangisini kurmuştur?

- A) Atatürk Orman Çiftliği
B) Etibank
C) Türk Tarih Kurumu
D) Maden Tetkik ve Arama Enstitüsü
E) Türkiye İş Bankası

7. Atatürk Dönemi'nde, müzik eğitimi verilmesi için aşağıdakilerden hangisi açılmıştır?

- A) Sümerbank B) Türk Dil Kurumu
C) Hukuk Mektebi D) Musiki Muallim Mektebi
E) Tıp Fakültesi

8. Atatürk'ün öldüğü Dolmabahçe Sarayı hangi şehirdedir?

- A) İstanbul B) Ankara C) İzmir
D) Bursa E) Hatay

9. Atatürk'ün zengin bir kütüphanesinin olması, onun aşağıdakilerden hangisine duyduğu sevgiyi gösterir?

- A) Doğaya
B) Müziğe
C) Kitaplara
D) Hayvanlara
E) Askerliğe

10. Aşağıdakilerden hangisi, temel esasları Atatürk tarafından belirlenen fikir ve ilkelere verilen addır?

- A) Toplumculuk
B) Atatürkçülük
C) Çağdaşlık
D) Akılcılık
E) Bilimsellik

11. "Sanatsız kalan bir milletin hayat damarlarından biri kopmuş demektir." sözü aşağıdakilerden hangisine aittir?

- A) Necip Fazıl Kısakürek
B) Nâzım Hikmet
C) Mehmet Akif Ersoy
D) Zeki Üngör
E) Mustafa Kemal Atatürk

12. Aşağıdaki illerden hangisi, Atatürk'ün ölümünden sonra Türkiye Cumhuriyeti topraklarına katılmıştır?

- A) Hakkari
B) Edirne
C) Kars
D) Hatay
E) Ardahan

13. Aşağıdakilerden hangisi, Atatürk ilkelerinden biri değildir?

- A) Cumhuriyetçilik
B) Halkçılık
C) Irkçılık
D) Devletçilik
E) Laiklik

14. Tarım ilaçlarının yağmur sularıyla toprağa karışarak yer altına sızması aşağıdakilerden hangisine neden olur?

- A) Depremlerin sık olmasına
B) Yolların bozulmasına
C) Yer altı sularının kirlenmesine
D) Toprak kaymasına
E) Hava kirliliğine

15. Akarsuların kabarması ve çevrelerinin sular altında kalmasıyla oluşan doğal afet aşağıdakilerden hangisidir?

- A) Taşkın
B) Erozyon
C) Çiğ
D) Deprem
E) Heyelan

16. Aşağıdakilerden hangisi, deprem sırasında yapılmalıdır?

- A) Pencerelerden uzak durulmalı
B) Doğal afet sigortası yaptırılmalı
C) Deprem çantası hazırlanmalı
D) Kitap rafları duvara sabitlenmeli
E) Deprem hakkında aile bireyleri bilgilendirilmeli

17. Aşağıdaki ülkelerden hangisi, Türkiye'nin sınır komşusudur?

- A) Fransa
B) İran
C) Mısır
D) Türkmenistan
E) Almanya

18. 177 ihbar hattına hangi durumlarda acil olarak telefon edilmelidir?

- A) Toprak kaymasında
B) Deprem olduğunda
C) Orman yangınlarında
D) Sel baskınlarında
E) Çığ düşmesinde

19. Bireye ve bakmakla yükümlü olduğu kişilere sosyal güvenlik hizmeti veren devlet kurumlarına ne ad verilir?

- A) Türk Dil Kurumu
B) Sosyal Güvenlik Kurumu
C) Türk Tarih Kurumu
D) Kamu iktisadi teşebbüsleri
E) Yükseköğretim Kurumu

20. Bir ülkeye vatandaşlık bağı ile bağlı olan kişilere ne ad verilir?

- A) Vatandaş
B) Halk
C) Yabancı
D) İnsan
E) Kamu görevlisi

21. Türkiye Cumhuriyeti'nin resmî dili aşağıdakilerden hangisidir?

- A) Arapça
B) İngilizce
C) Farsça
D) Türkçe
E) Osmanlıca

22. Türkiye Cumhuriyeti'nin yönetim şekli aşağıdakilerden hangisidir?

- A) Monarşi
B) Teokrasi
C) Cumhuriyet
D) Başkanlık
E) Federal devlet

23. Bireylerin hem birbirleriyle hem de devletle olan ilişkilerini düzenleyen kurallara ne ad verilir?

- A) Hukuk kuralları
B) Ahlak kuralları
C) Görgü kuralları
D) Din kuralları
E) Gelenek ve görenekler

24. Türkiye Cumhuriyeti'nin şu anda uygulanan Anayasası kaç tarihlidir?

- A) 1921
B) 1924
C) 1945
D) 1961
E) 1982

25. Aşağıdakilerden hangisi, kara yolunda insan, hayvan ve yük taşıyan araçlara verilen isimdir?

- A) Taşıt
B) Yaya
C) Trafik işaretleri
D) Yolcu
E) Sürücü

26. Aşağıdakilerden hangisi, bankada yapılan işlemlerden biri değildir?

- A) Hesap açma
B) Para çekme
C) Para yatırma
D) Fatura ödeme
E) Alışveriş yapma

27. Güvenlikle ilgili bir sorun oluştuğunda aşağıdaki telefonlardan hangisi aranır?

- A) 119 B) 155 C) 168 D) 175 E) 189

28. Aşağıdakilerden hangisi, haftanın son günüdür?

- A) Salı
B) Çarşamba
C) Pazar
D) Cuma
E) Pazartesi

29. Aşağıdakilerden hangisi, basit kanamalarda yapılması gerekenlerden biri değildir?

- A) Kanamayı durdurmak
B) Elleri yıkamak
C) Yaranın çevresini su ve sabunla yıkamak
D) Yara üzerine gazlı bez koymak
E) Burkulan bölgeyi hareket ettirmemek

30. Aşağıdakilerden hangisi, insanın temel ihtiyaçlarından biridir?

- A) Oyun oynamak
B) Tatile gitmek
C) Film izlemek
D) Beslenmek
E) Yüzmek

SINAVDA UYULACAK KURALLAR

- Cep telefonu ile sınava girmek kesinlikle yasaktır.** Çağrı cihazı, telsiz, fotoğraf makinesi, cep bilgisayarı vb. cihazlar; silah ve benzeri teçhizatla; müsvedde kâğıdı, defter, kitap, sözlük, sözlük işlevi olan elektronik aygıt, hesap cetveli, hesap makinesi, pergel, açıölçer, cetvel vb. araçlarla sınava girmek kesinlikle yasaktır. Sınava çanta, kalem, silgi, kalemtraş, saat vb., küpe, bilezik, broş vb. takı ile de girmek yasaktır. Bu şekilde sınava girmiş adayların kimlik bilgileri mutlaka Salon Sınav Tutanağına yazılacak, bu adayların sınavları geçersiz sayılacaktır.
- Sınav başladıktan sonra sınav süresinin $\frac{3}{4}$ 'ü **tamamlanmadan önce ve sınavın son 15 dakikası** içinde adayın sınavdan çıkmasına izin verilmeyecektir. Bu süreler dışında sınav süresi bitmeden cevaplamayı tamamlayan adaylar, cevap kâğıdını ve soru kitapçığını salon görevlilerine teslim ederek sınav salonundan ayrılabilir.
- Sınav evrakını teslim ederek sınav salonundan çıkan adaylar veya hangi nedenle olursa olsun sınav binasından ayrılan adaylar tekrar sınav salonuna alınmayacaktır.
- Sınav süresince görevlilerle konuşmak, görevlilere soru sormak yasaktır. Aynı şekilde görevlilerin de adaylarla yakından ve alçak sesle konuşmaları, adayların birbirinden kalem, silgi vb. şeyleri istemeleri kesinlikle yasaktır.
- Sınav sırasında, görevlilerin her türlü uyarısına uymak zorundasınız. Sınavınızın geçerli sayılması, her şeyden önce sınav kurallarına uymanıza bağlıdır. Kurallara aykırı davranışta bulunanların ve yapılacak uyarılara uymayanların kimlik bilgileri tutanağa yazılacak ve sınavları geçersiz sayılacaktır. Sınav süresince kimlik belgelerinizi sıranın üzerinde bırakınız.
- Sınav sırasında kopya çeken, çekmeye kalkışan, kopya veren, kopya çekilmesine yardım edenlerin kimlik bilgileri Salon Sınav Tutanağına yazılacak ve bu adayların sınavları geçersiz sayılacaktır. Görevliler kopya çekmeye ya da vermeye kalkışanları uyarmak zorunda değildir, sorumluluk size aittir. Adayların test sorularına verdikleri cevapların dağılımları bilgi işlem yöntemleriyle incelenecek, bu incelemelerden elde edilen bulgular bireysel ya da toplu olarak kopya çekildiğini gösterirse kopya eylemine katılan adayın/adayların cevaplarının bir kısmı ya da tamamı iptal edilecektir. Sınav görevlileri bir salondaki sınavın, kurallara uygun biçimde yapılmadığını, toplu kopya girişiminde bulunduğunu raporlarında bildirdikleri takdirde, ÖSYM takdir hakkını kullanarak bu salonda sınava giren tüm adayların sınavını geçersiz sayabilir.
- Sınavda soru kitapçığı ve cevap kâğıdı birlikte, kapalı bir poşette açılmadan size verilecektir. Poşeti açınız, açmakta güçlük çektiğinizde salon görevlilerinden yardım isteyiniz. Size verilen cevap kâğıdının adınıza olup olmadığını kontrol ediniz. Başka bir aday adına düzenlenmiş sınav evrakını kesinlikle kullanmayınız.
- Soru kitapçığının sayfalarının eksik olup olmadığını, kitapçıkta basım hatalarının bulunup bulunmadığını kontrol ediniz. Soru kitapçığının sayfası eksik ya da basımı hatalıysa değiştirilmesi için Salon Başkanına başvurunuz.
- Soru kitapçığında ve cevap kâğıdında doldurmanız gereken alanlar bulunmaktadır. Bu alanları doldurunuz. Cevap kâğıdına yazılacak her türlü yazıda ve yapılacak bütün işaretlemelerde kurşun kalem kullanılacaktır. Tükenmez kalem ve dolma kalem kesinlikle kullanılmayacaktır. Cevapların cevap kâğıdına işaretlenmiş olması gerekir. Soru kitapçığına işaretlenen cevaplar geçerli değildir.
- Sınav sonunda soru kitapçıkları toplanacak ve ÖSYM'de tek tek incelenecektir. Soru kitapçığının bir sayfası bile eksik çıkarsa sınavınız geçersiz sayılacaktır.
- Soru kitapçığının sayfalarındaki boş yerleri müsvedde için kullanabilirsiniz.
- Soruları ve/veya bu sorulara verdiğiniz cevapları ayrı bir kâğıda yazıp bu kâğıdı dışarı çıkarmanız kesinlikle yasaktır.
- Sınav süresinin bittiği ilan edildiğinde soru kitapçıkları ve cevap kâğıtları salon görevlileri tarafından toplanıncaya kadar yerlerinizde kalınız.
- Sınav salonundan ayrılmadan önce soru kitapçığınızı ve cevap kâğıdınızı salon görevlilerine teslim etmeyi unutmayınız.
- Her testin cevaplarını cevap kâğıdında o test için ayrılmış alana işaretlemeye dikkat ediniz. İlgili testin cevaplarını cevap kâğıdında doğru alana işaretlemediğiniz takdirde oluşacak değerlendirme sonuçlarından sorumlu olduğunuzu unutmayınız.

Bu testlerin her hakkı saklıdır. Hangi amaçla olursa olsun, testlerin tamamının veya bir kısmının Merkezimizin yazılı izni olmadan kopya edilmesi, fotoğrafının çekilmesi, herhangi bir yolla çoğaltılması, yayımlanması ya da kullanılması yasaktır. Bu yasağa uymayanlar gerekli cezai sorumluluğu ve testlerin hazırlanmasındaki mali külfeti peşinen kabullenmiş sayılır.

29 NİSAN 2012
ÖZÜRLÜ MEMUR SEÇME SINAVI (ÖMSS)
ORTAÖĞRETİM
ZİHİNSEL

GENEL YETENEK TESTİ

1. B
2. D
3. A
4. B
5. E
6. D
7. D
8. A
9. E
10. B
11. D
12. A
13. E
14. C
15. B
16. A
17. C
18. C
19. A
20. D
21. E
22. B
23. C
24. C
25. D
26. B
27. B
28. A
29. E
30. D

GENEL KÜLTÜR TESTİ

1. E
2. A
3. C
4. B
5. D
6. A
7. D
8. A
9. C
10. B
11. E
12. D
13. C
14. C
15. A
16. A
17. B
18. C
19. B
20. A
21. D
22. C
23. A
24. E
25. A
26. E
27. B
28. C
29. E
30. D