



2012-ÖZÜRLÜ MEMUR SEÇME SINAVI (ÖMSS)
ÖN LİSANS

ZİHİNSEL

29 NİSAN 2012 PAZAR

T.C. KİMLİK NUMARASI :

ADI :

SOYADI :

Soru kitapçık numarasının cevap kâğıdına yazılmamasının veya yanlış yazılmasının sorumluluğu adaya aittir.

SORU KİTAPÇIK
NUMARASI :

**TEMEL SORU
KİTAPÇIĞI**

Bu numarayı cevap kâğıdınızdaki ilgili alana yazmayı unutmayınız.

DİKKAT! SINAV BAŞLAMADAN ÖNCE AŞAĞIDAKİ UYARILARI MUTLAKA OKUYUNUZ.

1. T.C. Kimlik Numaranızı, Adınızı, Soyadınızı Soru Kitapçığı üzerindeki ilgili alanlara yazınız.
2. Soru Kitapçık Numaranız yukarıda verilmiştir. Bu numarayı cevap kâğıdınızdaki ilgili alana yazınız ve aşağıdaki ilgili alanı imzalayınız. Salon görevlisinin de hem soru kitapçığındaki hem de cevap kâğıdınızdaki ilgili alanı kontrol etmesini sağlayınız.
3. Bu sayfanın arkasında yer alan açıklamayı dikkatle okuyunuz.

Adayın imzası:

Soru kitapçık numarasını doğru yazdım.

Salon görevlisinin imzası:

Adayın soru kitapçık numarasını cevap kâğıdına doğru yazdığını onaylıyorum.

AÇIKLAMA

1. Bu kitapçıkta **Genel Yetenek Testi** ve **Genel Kültür Testi** bulunmaktadır.
2. Bu kitapçıkta iki test toplam 60 sorudan oluşmaktadır.
3. Bu kitapçıkta testlerde yer alan her sorunun sadece bir doğru cevabı vardır. Bir soru için birden çok cevap yeri işaretlenmişse o soru yanlış cevaplanmış sayılacaktır.
4. İşaretlediğiniz bir cevabı değiştirmek istediğinizde, silme işlemini çok iyi yapmanız gerektiğini unutmayınız.
5. Bu testler puanlanırken doğru cevaplarınızın sayısından yanlış cevaplarınızın sayısının dörtte biri düşülecek ve kalan sayı ham puanınız olacaktır. Bu nedenle, hakkında hiçbir fikriniz olmayan soruları boş bırakınız. Ancak, soruda verilen seçeneklerden birkaçını eleyebiliyorsanız kalanlar arasında doğru cevabı kestirmeye çalışmanız yararınıza olabilir.
6. Cevaplamaya istediğiniz sorudan başlayabilirsiniz. Bir soru ile ilgili cevabınızı, cevap kâğıdında o soru için ayrılmış olan yere işaretlemeyi unutmayınız.
7. Sınavda uyulacak diğer kurallar bu kitapçığın arka kapağında belirtilmiştir.

Bu test 30 sorudan oluşmaktadır.

1. Aşağıda verilen cümlelerin hangisindeki altı çizili sözcük cümleye "birliktelik" anlamı katmıştır?

- A) Araba almak için araba pazarını dolaşmışlar.
- B) Ali, Ahmet ile araba almaya gitmiş.
- C) Benim arabam seninki kadar yeni değil.
- D) İstedığı arabayı almıştı ama ondan memnun değildi.
- E) Çok üzgündü meğer istediği araba satılmış.

2. Ankara'nın iklim özelliği, eski Ankara evlerinin biçimlenmesinde önemli rol oynamıştır. Bu evlerde, ısı değişimine göre kullanımın farklılaştığı görülür. Kalın duvarları olan küçük pencereci alt katlar genellikle kışın, ince duvarlı ve havadar üst katlar ise yazın kullanılmıştır. Yine iklime bağılı olarak gelişen geniş saçaklar ve cihannüma denilen yazlık odalar da Ankara evlerinin belirleyici özelliklerindedir.

Bu parçada geçen aşağıdaki sözcüklerden hangisinin, açıklaması da verilmiştir?

- A) Havadar
- B) Saçak
- C) Cihannüma
- D) Isı değişimi
- E) İklim özelliği

3. Aşağıdakilerden hangisinde deyim ve açıklaması yanlış verilmiştir?

- A) Eğitim görmüş kişiler için "mürekkep yalamış" denir.
- B) Kime güvendiye, hangi girişimde bulduysa olumlu sonuç alamayanlar için "tuttuğu dal elinde kalmak" deyimini kullanılır.
- C) Gerçekleşmesi çok yakın olan işler için "eli kulağında" deyimini kullanılır.
- D) Çok değerli bir şey kazanmayı başarma durumu için "turnayı gözünden vurdu" denir.
- E) Birisine iyilik yapmak isterken zararı dokunmak gibi iyi niyete bağılı hatalar için "gözden çıkarmak" deyimini kullanılır.

4. Aşağıdaki cümlelerin hangisinde koşul söz konusudur?

- A) Araba inişli yokuşlu dağ yoluna girmişti.
- B) Bu kasaba, kendimi bildim bileli ıssızdır.
- C) Birbirlerini selamlayıp el sıkıştılar.
- D) Sen buraya gelirsen daha güzel olacak.
- E) Verilen işi akşama kadar bitirdi.

5. (I) Güneş Sistemi'nde yer alan Dünya dışındaki gezegenler, insanların yaşamasına elverişli değildir. (II) Dünya, gezegenler arasında büyüklük bakımından beşinci sırada gelir. (III) Toplam alanı 510 milyon kilometrekare dolayındadır. (IV) Yaklaşık yüzde otuzu karalarla, geri kalanı okyanus ve denizlerle kaplıdır. (V) En iç bölümünde yer alan çekirdeğin ise çapı 7000 kilometre kadardır.

Bu parçadaki numaralanmış cümlelerin hangisinde sayısal verilerden yararlanılmamıştır?

- A) I. B) II. C) III. D) IV. E) V.

6. (I) Yıllardır Bodrum'un Torba Koyu'nda geçirim tatilimi. (II) Yüzlerce kez bu kıyıda balıkçıları, balıkçı teknelerini gördüm. (III) Ama bir gün bile onları resimlerde anlatıldığı gibi görmedim. (IV) Ne o ışıkta ne o renklerde... (V) Çünkü benim gördüğüm dış dünyaydı, çıplak gözün algıladığı görüntülerdi.

Bu parçadaki numaralanmış cümlelerle ilgili olarak aşağıda verilenlerden hangisi yanlıştır?

- A) I. cümlede, sürekli gidilen yer belirtilmiştir.
B) II. cümlede, yapılan işin nasıl bir etki yarattığına değinilmiştir.
C) III. cümlede, karşılaştırmaya yer verilmiştir.
D) IV. cümlede, III. cümlede belirtilene ekleme yapılmıştır.
E) V. cümlede, neden belirtilmiştir.

7. Bu bölgede, herkesin bildiği popüler şehirler de var,
I II

keşfedilmeyi bekleyen, küçük ama sürprizlerle
III IV V

dolu kasabalar da...

Bu cümledeki numaralanmış sözlerden hangisi nitelendirme amacıyla kullanılmamıştır?

- A) I. B) II. C) III. D) IV. E) V.

8. **Aşağıdaki cümlelerin hangisinde bir yazım yanlışı vardır?**

- A) Çocuklarına dürüst olmanın önemini anlatırdı.
B) Onun, düşüncelerime saygı duyduğunu biliyorum.
C) Hayallerini gerçekleştirmek hiçde kolay olmamıştı.
D) Ansızın başlayan yağmur, sokaktakileri hazırlıksız yakaladı.
E) Yıllarca çalıştığı bu dükkânı başkasına devretti.

9. Servise binerken yapmanız gerekenler şunlardır (I) Evden zamanında çıkın (II) Güvenli bir yerde bekleyin (III) Araca, kaldırım tarafındaki kapıdan binin (IV) Bindikten sonra emniyet kemerini takın (V)

Bu parçadaki numaralanmış yerlerin hangisine ötekilerden farklı bir noktalama işareti getirilmelidir?

- A) I. B) II. C) III. D) IV. E) V.

10. Bir efsaneye göre Mersin'e yerleşen kavimler bölgenin çalılarla kaplı olduğunu görürler. Kışın geldikleri için de bu çalılar ne olduğunu anlayamazlar. Yaz gelince çalılar beyaz beyaz çiçek açmaya başlar. Bugün bölgede "murt" adı verilen meyve bu çiçeklerden oluşmaktadır. Bölgeye yerleşenler meyvenin adını "mersin" olarak bildiklerinden kurdukları şehrin adına da Mersin demişlerdir.

Bu parçanın anlatımı için aşağıdakilerden hangisi söylenemez?

- A) Öykülemeye başvurulmuştur.
- B) İkileme kullanılmıştır.
- C) Açıklamaya yer verilmiştir.
- D) Karşılaştırmadan yararlanılmıştır.
- E) Betimleme yapılmıştır.

11. (I) Eski insanların yaşamını öğrenmek kim bilir ne kadar zevklidir. (II) Düşünsenize, binlerce yıl öncesinde yaşamış birçok uygarlık var. (III) Bu uygarlıkların nasıl oluştuğunu hepimiz merak ederiz. (IV) Arkeologlar da bu merakı gidermeye çalışırlar. (V) Ancak, bu onları mutlu ediyor.

Bu parçadaki numaralanmış yerlerden hangisine "Doğrusu yaptıkları kolay bir iş değil." cümlesi getirilebilir?

- A) I. B) II. C) III. D) IV. E) V.

12. Aslında soğuklarla gribin doğrudan bir ilgisi yokmuş. Soğuk havalarda insanlar kapalı ortamlarda daha çok kaldığı için mikrop alışverişi çoğalıyormuş. Böylece kışın grip ve soğuk algınlığına daha çok yakalanıyormuşuz.

Bu parçaya göre aşağıdakilerden hangisi söylenebilir?

- A) Temizliğine dikkat eden insanlar hastalıklara karşı dirençlidir.
- B) İnsanlar her mevsimde gribe yakalanabilirler.
- C) Yaz mevsiminin kendine göre hastalıkları vardır.
- D) Açık havada bol bol vakit geçirerek her türlü hastalıktan korunmak mümkündür.
- E) Çocuklar büyüklere göre daha çok hasta olurlar.

13. İnsanın yaşamak için birçok besine ihtiyacı vardır. Büyümek, uzun süre sağlıklı olarak yaşamak için besinlerden belirli miktarda tüketmek gerekir. Besinlerden herhangi biri az alındığında ya da alınmadığında insan zayıf düşer, insanın gelişme hızı azalır ve sağlığı bozulur. Gereğinden fazla besin tüketildiğinde ise bu besin maddeleri vücutta yağ olarak depolanır ve zararlı hâle gelir.

Bu parçaya göre aşağıdakilerden hangisi sağlıklı beslenmenin sonuçlarından biri değildir?

- A) Kilo alınması
- B) Hastalanma riskinin artması
- C) Büyümenin yavaşlaması
- D) Uyku düzeninin bozulması
- E) Gücün azalması

14. Uzayda ağırlıksız bir ortamda bulunmak hepimize çok çekici gelir. Belgesellerde ve sinemada oradan oraya zıplayan, hiç zorlanmadan akrobatik hareketler yapan astronotlara imreniriz. Ancak durum görüldüğü gibi eğlenceli değildir. İnsan vücudu uzaydaki ortama uygun olmadığından orada birtakım sorunlar yaşanır. Uzaydayken bacaklardaki kan, baş bölgesinde toplanır. Başlarındaki fazla kan nedeniyle astronotlar da kendilerini baş aşağı duruyor gibi hissederler.

Bu parçadan uzayla ilgili olarak aşağıdakilerin hangisine ulaşamaz?

- A) Oradayken bedensel işleyişimizde değişiklik görüldüğüne
B) Koşullarının vücut yapımızla bağdaşmadığına
C) Gelecekte, yaşama elverişli kılınacağına
D) Filmlere konu edildiğine
E) Görülenlerin, orada olma isteği uyandırdığına

15. Mostar Köprüsü, Neretva Nehri'nin iki yakasındaki dağları birbirine kavuşturan bir mimarlık harikası. Kanuni tarafından Mimar Hayrettin'e yaptırıldı. 28,5 m yüksekliğinde ve 22,5 m genişliğinde olan köprü 1986'da Ağa Han Dünya Mimarlık Ödülü'nü aldı. Bütün statik kanunlarıyla alay eden bir incelikle, zorlu doğa koşullarına 426 yıl direnen köprü, ülkedeki iç savaş sırasında yerle bir oldu. 2004'te yeniden inşa edildi ve bugün UNESCO Dünya Mirası Listesi'nde.

Bu parçada Mostar Köprüsü'yle ilgili olarak aşağıdakilerden hangisine değinilmemiştir?

- A) Boyutlarına
B) Bulunduğu yere
C) Ne zaman yenilediğine
D) Niçin yıkıldığına
E) Yapımında karşılaşılan zorluklara

16.

$$\frac{5^2 - 3^2}{2^2}$$

işleminin sonucu kaçtır?

- A) 1 B) 2 C) 3 D) 4 E) 5

17.

$$\frac{\sqrt{0,09} + \sqrt{0,25}}{\sqrt{0,04}}$$

işleminin sonucu kaçtır?

- A) 4 B) 2 C) 1 D) 0,4 E) 0,2

18. M ve N kümeleri

$$M = \{a, b, c, d, e\}$$

$$N = \{a, c, d\}$$

olarak veriliyor.

Buna göre, aşağıdakilerden hangisi doğrudur?

- A) $M = N$ B) $M \subset N$ C) $M \cap N = \emptyset$
 D) $M \cup N = M$ E) $M \setminus N = N$

19.

$$\begin{array}{r} A \overline{) 12} \\ \underline{8} \\ 7 \end{array}$$

Bir A sayısı 12'ye bölüldüğünde bölüm 8, kalan 7'dir.

Buna göre, A kaçtır?

- A) 100 B) 103 C) 106 D) 109 E) 111

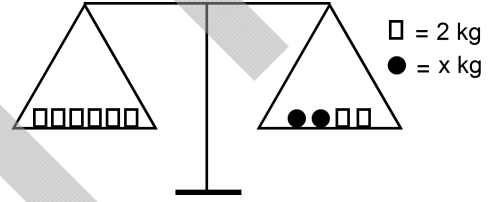
20.

$$\begin{array}{ccccccc} & \div 2 & & \div 2 & & \div 2 & \\ & \swarrow & & \swarrow & & \swarrow & \\ 394 & 396 & 198 & 200 & \Delta & 102 & 51 & \square \\ & \swarrow & & \swarrow & & \swarrow & & \\ & +2 & & +2 & & +2 & & +2 \end{array}$$

Yukarıda verilen kurala göre, Δ ve \square yerine yazılması gereken sayıların toplamı kaçtır?

- A) 155 B) 153 C) 148 D) 143 E) 140

21.



Şekildeki eşit kollu terazi dengede olduğuna göre, x kaçtır?

- A) 4 B) 5 C) 6 D) 7 E) 8

22. Sabit hızla giden bir araç, her 120 km'de 6 litre benzin tüketmektedir.

Bu araç, 540 km giderse toplam kaç litre benzin tüketir?

- A) 20 B) 22 C) 25 D) 27 E) 30

23. Zeynep, tanesi 22 TL olan kitaplardan 3 adet, tanesi 8 TL olan defterlerden 2 adet satın almıştır.

Buna göre, Zeynep toplam kaç TL harcamıştır?

- A) 60 B) 74 C) 78 D) 80 E) 82

24. Ardışık 3 doğal sayının toplamı 66'dır.

Buna göre, bu sayıların en büyüğü kaçtır?

- A) 20 B) 23 C) 27 D) 30 E) 33

25. Pozitif rasyonel sayılar kümesinde Δ işlemi

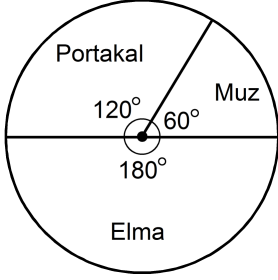
$$x \Delta y = (2 \cdot x^{-1}) + y^{-1}$$

biçiminde tanımlanıyor.

Buna göre, $4 \Delta 3$ işleminin sonucu kaçtır?

- A) $\frac{2}{3}$ B) $\frac{3}{4}$ C) $\frac{5}{6}$
D) $\frac{5}{8}$ E) $\frac{8}{9}$

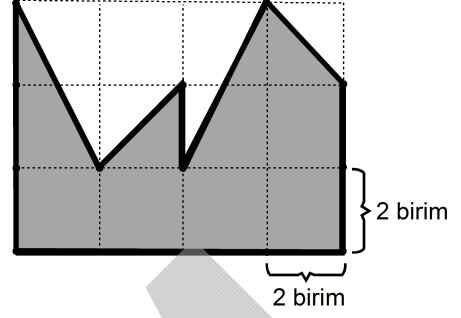
26. Aşağıdaki daire grafiğinde, bir pazarcının sattığı ürünler ve bunların dağılımları gösterilmiştir.



Bu pazarcı 15 kg muz sattığına göre, kaç kilogram elma satmıştır?

- A) 35 B) 40 C) 45 D) 50 E) 55

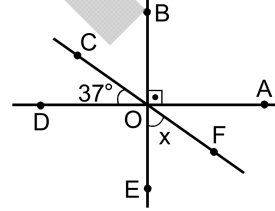
- 27.



Kareli kâğıt üzerine çizilmiş yukarıdaki şeklin alanı kaç birim karedir?

- A) 30 B) 32 C) 34 D) 36 E) 38

- 28.



$$m(\widehat{AOB}) = 90^\circ$$

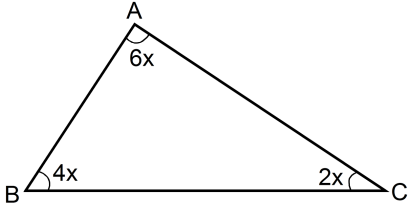
$$m(\widehat{COD}) = 37^\circ$$

$$m(\widehat{EOF}) = x$$

Yukarıdaki verilere göre, x kaç derecedir?

- A) 30 B) 37 C) 45 D) 50 E) 53

29.



ABC bir üçgen

$$m(\widehat{ACB}) = 2x$$

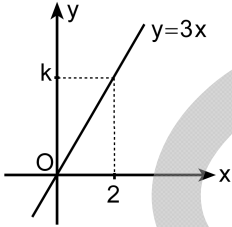
$$m(\widehat{ABC}) = 4x$$

$$m(\widehat{CAB}) = 6x$$

Yukarıdaki verilere göre, x kaç derecedir?

- A) 15 B) 18 C) 20 D) 24 E) 25

30.



Dik koordinat düzleminde verilen yukarıdaki doğrunun denklemi $y = 3x$ 'tir.

(2, k) noktası doğru üzerinde ise k kaçtır?

- A) 2 B) 3 C) 4 D) 5 E) 6

Bu test 30 sorudan oluşmaktadır.

1. Tarihte bilinen en eski Türk Devleti aşağıdakilerden hangisidir?

- A)Uygur B)Göktürk C)Asya Hun
D)Hazar E)Avar

2. Aşağıdakilerden hangisi, Türk-İslam devletlerinde dinî mimariyle ilgili yapılardan biridir?

- A)Han B)Cami C)Hamam
D)Köşk E) Saray

3. İstanbul'u fethederek Bizans Devleti'nin varlığına son veren Osmanlı hükümdarı aşağıdakilerden hangisidir?

- A) Fatih Sultan Mehmet
B) Yıldırım Bayezit
C) Mehmet Çelebi
D) Kanuni Sultan Süleyman
E) Yavuz Sultan Selim

4. Aşağıdakilerden hangisi, Atatürk'ün doğum yılı olan 1881'in yüzyıl biçimindeki ifadesidir?

- A) 19. yüzyılın başı B) 19. yüzyılın ortası
C) 20. yüzyılın sonu D) 19. yüzyılın sonu
E) 20. yüzyılın ortası

5. Millî cemiyetlerin birleştirilmesi kararı aşağıdakilerin hangisinde alınmıştır?

- A) Amasya Genelgesi B) Havza Genelgesi
C) Erzurum Kongresi D) Sivas Kongresi
E) Amasya Görüşmeleri

6. İstanbul'un Anlaşma Devletleri tarafından resmen işgal edilmesi aşağıdakilerden hangisine neden olmuştur?

- A) Misakımillî'nin ilan edilmesine
B) Amasya Görüşmelerinin yapılmasına
C) Sivas Kongresi'nin toplanmasına
D) Mustafa Kemal'in Samsun'a çıkmasına
E) TBMM'nin açılmasına

7. Kurtuluş Savaşı'nda Batı Cephesi'nde aşağıdaki devletlerden hangisine karşı savaşılmıştır?

- A)Fransa B)Yunanistan C)Ermenistan
D)Rusya E) İtalya

8. Yeni Türk Devleti'nde rejimin adı aşağıdakilerden hangisiyle konmuştur?

- A) TBMM'nin açılması
- B) Misakımillî'nin ilanı
- C) Saltanatın kaldırılması
- D) Cumhuriyet'in ilanı
- E) Halifeliğin kaldırılması

9. Londra Konferansı aşağıdaki savaşların hangisinden sonra düzenlenmiştir?

- A) I. İnönü
- B) II. İnönü
- C) Sakarya
- D) Başkomutan
- E) Eskişehir-Kütahya

10. Mustafa Kemal'in ekonomik düzenlemeler üzerine kurduğu ilke aşağıdakilerden hangisidir?

- A) Cumhuriyetçilik
- B) Laiklik
- C) Halkçılık
- D) Milliyetçilik
- E) Devletçilik

11. Aşağıdakilerden hangisi, Atatürkçülüğün öngördüğü esaslardan biri değildir?

- A) Millî birlik ve beraberliğe önem vermek
- B) Akılcı olmak
- C) Sınıf ayrımcılığı yapmak
- D) Barışçı olmak
- E) Tam bağımsızlığı savunmak

12.

- I. Medeni Kanun'un kabulü
- II. Halifeliğin kaldırılması
- III. Saltanatın kaldırılması

Yukarıdaki inkılaplardan hangileri, siyasi alanda yapılmıştır?

- A) Yalnız I
- B) Yalnız II
- C) Yalnız III
- D) I ve II
- E) II ve III

13. Lozan Antlaşması gereğince aşağıdaki ülkelerden hangisiyle mübadele (nüfus değişimi) yapılmıştır?

- A) Suriye
- B) Yunanistan
- C) İran
- D) Irak
- E) Gürcistan

14. İstanbul, Çanakkale, Muğla ve Kocaeli illerinin ortak özelliği aşağıdakilerden hangisidir?

- A) Topraklarının farklı kıtalarda olması
- B) Maki bitki örtüsünün yaygın olması
- C) Birden fazla denize kıyısının olması
- D) Yüzey şekillerinin sade olması
- E) Koy ve körfezlerin fazla olması

15. Türkiye'de kuzeyden esen rüzgârların hava sıcaklığını azaltması, güneyden esenlerin ise yükseltmesi, aşağıdakilerden hangisiyle ilişkilidir?

- A) Yükselti
- B) Enlem
- C) Boylam
- D) Bulutluluk
- E) Engebelilik

16. Aşağıdaki akarsulardan hangisi, Türkiye sınırları dışında denize dökülür?

- A) Sakarya B) Kızılırmak C) Asi
D) Çoruh E) Gediz

17. Balıkların mevsimlik göç yolları üzerinde olması nedeniyle aşağıdaki yerlerden hangisi, Türkiye’de deniz balıkçılığında diğerlerine göre daha önemlidir?

- A) Gökova Körfezi
B) Gökçeada-Bozcaada kıyıları
C) İstanbul Boğazı
D) Saros Körfezi
E) İskenderun Körfezi

18. Türkiye’de elektrik enerjisi tüketiminde, aşağıda verilen kullanım alanlarından hangisinin payı diğerlerine göre daha fazladır?

- A) Endüstri B) Konutlar
C) Kentsel aydınlatma D) Tarımsal sulama
E) Ulaşım

19. 1982 Anayasası’na göre, aşağıdakilerden hangisi “Yürütme” organının düzenleyici işlemlerinden biri değildir?

- A) Tüzük
B) Yönetmelik
C) Kanun hükmünde kararname
D) Meclis İç Tüzüğü
E) Olağanüstü hâl kanun hükmünde kararnamesi

20. 1982 Anayasası’na göre, aşağıdakilerden hangisi yalnız Türk vatandaşlarına tanınan hak ve hürriyetlerden biridir?

- A) Bilgi edinme hakkı
B) Siyasi parti kurma hakkı
C) Hak arama hürriyeti
D) Dernek kurma hürriyeti
E) Sosyal güvenlik hakkı

21. TBMM kaç milletvekilinden oluşur?

- A) 350 B) 400 C) 450 D) 520 E) 550

22. “Herkes, düşünce ve kanaatlerini söz, yazı, resim veya başka yollarla açıklama ve yayma hakkına sahiptir.” cümlesi ile aşağıdaki hak ve hürriyetlerden hangisi ifade edilmektedir?

- A) Din ve vicdan hürriyeti
B) Dernek kurma hürriyeti
C) Düşünceyi açıklama ve yayma hürriyeti
D) Hak arama hürriyeti
E) Özel hayatın gizliliği

23. Anayasamıza göre, aşağıdakilerden hangisi grev hakkına sahiptir?

- A) İşçiler B) Öğretmenler
C) Öğrenciler D) Hâkimler ve savcılar
E) Polisler

24. Aile reislerine birden çok oy hakkı tanınması, aşağıdaki ilkelerden hangisine aykırılık teşkil eder?

- A) Gizli oy B) Eşit oy
C) Tek dereceli seçim D) Açık sayım
E) Oy hakkının şahsiliği

25. 1 Temmuz 2013 tarihinde Avrupa Birliği'ne katılacak ülke aşağıdakilerden hangisidir?

- A) Hırvatistan B) Türkiye
C) Makedonya D) Bosna-Hersek
E) Gürcistan

26. Sosyal güvencesi olmayan engelli vatandaşlar, özürü maaşına kaç yaşından itibaren başvurabilmektedir?

- A) 10 B) 15 C) 18 D) 20 E) 22

27. 2012 Avrupa Spor Başkenti olarak ilan edilen şehir aşağıdakilerden hangisidir?

- A) Paris B) İstanbul C) Atina
D) Roma E) Berlin

28. 2012 Eurovision Şarkı Yarışması'nda ülkemizi temsil edecek sanatçı aşağıdakilerden hangisidir?

- A) Tarkan B) Can Bonomo
C) Hadise D) Mazhar Alanson
E) Sezen Aksu

29. Aşağıdakilerden hangisi, kullanılan kâğıt banknotlardan değildir?

- A) 50 TL B) 20 TL C) 25 TL D) 10 TL E) 100 TL

30. Son yapılan düzenlemeye göre, Cumhurbaşkanı Abdullah Gül'ün görev süresi kaç yıldır?

- A) 4 B) 5 C) 6 D) 7 E) 8

SINAVDA UYULACAK KURALLAR

- 1. Cep telefonu ile sınava girmek kesinlikle yasaktır.** Çağrı cihazı, telsiz, fotoğraf makinesi, cep bilgisayarı vb. cihazlar; silah ve benzeri teçhizatlar; müsvedde kâğıdı, defter, kitap, sözlük, sözlük işlevi olan elektronik aygıt, hesap cetveli, hesap makinesi, pergel, açıölçer, cetvel vb. araçlarla sınava girmek kesinlikle yasaktır. Sınava çanta, kalem, silgi, kalemtraş, saat vb., küpe, bilezik, broş vb. takı ile de girmek yasaktır. Bu şekilde sınava girmiş adayların kimlik bilgileri mutlaka Salon Sınav Tutanağına yazılacak, bu adayların sınavları geçersiz sayılacaktır.
- Sınav başladıktan sonra sınav süresinin $\frac{3}{4}$ 'ü **tamamlanmadan önce ve sınavın son 15 dakikası** içinde adayın sınavdan çıkmasına izin verilmeyecektir. Bu süreler dışında sınav süresi bitmeden cevaplamayı tamamlayan adaylar, cevap kâğıdını ve soru kitapçığını salon görevlilerine teslim ederek sınav salonundan ayrılabilir.
- Sınav evrakını teslim ederek sınav salonundan çıkan adaylar veya hangi nedenle olursa olsun sınav binasından ayrılan adaylar tekrar sınav salonuna alınmayacaktır.
- Sınav süresince görevlilerle konuşmak, görevlilere soru sormak yasaktır. Aynı şekilde görevlilerin de adaylarla yakından ve alçak sesle konuşmaları, adayların birbirinden kalem, silgi vb. şeyleri istemeleri kesinlikle yasaktır.
- Sınav sırasında, görevlilerin her türlü uyarısına uymak zorundasınız. Sınavınızın geçerli sayılması, her şeyden önce sınav kurallarına uymanıza bağlıdır. Kurallara aykırı davranışta bulunanların ve yapılacak uyarılara uymayanların kimlik bilgileri tutanağa yazılacak ve sınavları geçersiz sayılacaktır. Sınav süresince kimlik belgelerinizi sıranın üzerinde bırakınız.
- Sınav sırasında kopya çeken, çekmeye kalkışan, kopya veren, kopya çekilmesine yardım edenlerin kimlik bilgileri Salon Sınav Tutanağına yazılacak ve bu adayların sınavları geçersiz sayılacaktır. Görevliler kopya çekmeye ya da vermeye kalkışanları uyarmak zorunda değildir, sorumluluk size aittir. Adayların test sorularına verdikleri cevapların dağılımları bilgi işlem yöntemleriyle incelenecek, bu incelemelerden elde edilen bulgular bireysel ya da toplu olarak kopya çekildiğini gösterirse kopya eylemine katılan adayın/adayların cevaplarının bir kısmı ya da tamamı iptal edilecektir. Sınav görevlileri bir salondaki sınavın, kurallara uygun biçimde yapılmadığını, toplu kopya girişiminde bulunduğunu raporlarında bildirdikleri takdirde, ÖSYM takdir hakkını kullanarak bu salonda sınava giren tüm adayların sınavını geçersiz sayabilir.
- Sınavda soru kitapçığı ve cevap kâğıdı birlikte, kapalı bir poşette açılmadan size verilecektir. Poşeti açınız, açmakta güçlük çektiğinizde salon görevlilerinden yardım isteyiniz. Size verilen cevap kâğıdının adınıza olup olmadığını kontrol ediniz. Başka bir aday adına düzenlenmiş sınav evrakını kesinlikle kullanmayınız.
- Soru kitapçığının sayfalarının eksik olup olmadığını, kitapçıkta basım hatalarının bulunup bulunmadığını kontrol ediniz. Soru kitapçığının sayfası eksik ya da basımı hatalıysa değiştirilmesi için Salon Başkanına başvurunuz.
- Soru kitapçığında ve cevap kâğıdında doldurmanız gereken alanlar bulunmaktadır. Bu alanları doldurunuz. Cevap kâğıdına yazılacak her türlü yazıda ve yapılacak bütün işaretlemelerde kurşun kalem kullanılacaktır. Tükenmez kalem ve dolma kalem kesinlikle kullanılmayacaktır. Cevapların cevap kâğıdına işaretlenmiş olması gerekir. Soru kitapçığına işaretlenen cevaplar geçerli değildir.
- Sınav sonunda soru kitapçıkları toplanacak ve ÖSYM'de tek tek incelenecektir. Soru kitapçığının bir sayfası bile eksik çıkarsa sınavınız geçersiz sayılacaktır.
- Soru kitapçığının sayfalarındaki boş yerleri müsvedde için kullanabilirsiniz.
- Soruları ve/veya bu sorulara verdiğiniz cevapları ayrı bir kâğıda yazıp bu kâğıdı dışarı çıkarmanız kesinlikle yasaktır.
- Sınav süresinin bittiği ilan edildiğinde soru kitapçıkları ve cevap kâğıtları salon görevlileri tarafından toplanıncaya kadar yerlerinizde kalınız.
- Sınav salonundan ayrılmadan önce soru kitapçığınızı ve cevap kâğıdınızı salon görevlilerine teslim etmeyi unutmayınız.
- Her testin cevaplarını cevap kâğıdında o test için ayrılmış alana işaretlemeye dikkat ediniz. İlgili testin cevaplarını cevap kâğıdında doğru alana işaretlemediğiniz takdirde oluşacak değerlendirme sonuçlarından sorumlu olduğunuzu unutmayınız.

Bu testlerin her hakkı saklıdır. Hangi amaçla olursa olsun, testlerin tamamının veya bir kısmının Merkezimizin yazılı izni olmadan kopya edilmesi, fotoğrafının çekilmesi, herhangi bir yolla çoğaltılması, yayımlanması ya da kullanılması yasaktır. Bu yasağa uymayanlar gerekli cezai sorumluluğu ve testlerin hazırlanmasındaki mali külfeti peşinen kabullenmiş sayılır.

29 NİSAN 2012
ÖZÜRLÜ MEMUR SEÇME SINAVI (ÖMSS)
ÖN LİSANS
ZİHİNSEL

GENEL YETENEK TESTİ

1. B
2. C
3. E
4. D
5. A
6. B
7. B
8. C
9. A
10. D
11. E
12. B
13. D
14. C
15. E
16. D
17. A
18. D
19. B
20. B
21. A
22. D
23. E
24. B
25. C
26. C
27. B
28. E
29. A
30. E

GENEL KÜLTÜR TESTİ

1. C
2. B
3. A
4. D
5. D
6. E
7. B
8. D
9. A
10. E
11. C
12. E
13. B
14. C
15. B
16. D
17. C
18. A
19. D
20. B
21. E
22. C
23. A
24. B
25. A
26. C
27. B
28. B
29. C
30. D